



MEDINDO O TEMPO...


Complete os ponteiros do relógio de acordo com a hora indicada:




9 h e 20 min



4 h e 10 min




22 h e 20 min




16 h e 20 min

MEDINDO O TEMPO...


Organize uma rotina para parte de seu dia, completando os relógios abaixo:




Às _____ eu me levanto.



Às _____ horas começa a minha aula.




Às _____ horas começa o recreio



Às _____ horas eu saio da escola.

SITUAÇÃO- PROBLEMA

Marina e Lili resolveram saber quantos quilos pesavam...



Juntas a balança marcou quarenta e cinco quilos.

Quando Lili saiu de cima da balança ela passou a marcar somente o peso de Marina, que é trinta e nove quilos. Qual é o peso de Lili?

Como pensei: